



Objetivo 10

Mario regresó 9 libros a la biblioteca. Jasmín regresó 18 libros a la biblioteca. ¿Aproximadamente, cuántos libros más regresó Jasmín que Mario?

- a. 10 libros
- b. 30 libros
- c. 20 libros
- d. 40 libros



Objetivo 1 B


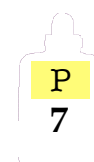
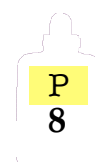



Tres niños querían saber cuántas canicas tenían para poderlas dividir en partes iguales. ¿Cuántas canicas habían en total?

- a. 103 canicas 10
- b. 23 canicas
- c. 33 canicas
- d. 330 canicas 10 10

Gourmet Curriculum Press, Inc. ©

Objetivo 1 C

La Srta. Ponce puso números en las botellas de pegamento de los estudiantes. Luego las puso en orden. ¿Qué número va en la botella de Tomás?

					
Julio	Jennifer	Elena	Joaquín	Tomás	Andrés

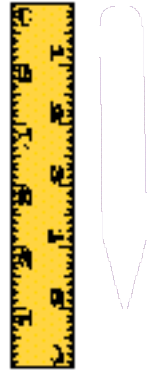
- a. 12
- b. 10
- c. 13
- d. 11



Objetivo 4 A


Javier midió su lápiz para ver si cabía en su lapicero. ¿Aproximadamente, cuántas pulgadas de largo es su lápiz?

- a. 5 pulgadas
- b. 4 pulgadas
- c. 6 pulgadas
- d. 1 pulgadas



Objetivo 4

La Sra. Chávez fué a la tienda a comprar unas naranjas para el juego de fútbol soccer de su hija. ¿Cuánto pesaban las naranjas?



- a. 1 libra
- b. 2 libras
- c. 3 libras
- d. 6 libras

Objetivo 13

Hay 18 niños que no han faltado a la escuela. Como recompensa los van a llevar a un parque de diversiones. Ellos van a viajar en un automóvil que puede llevar 5 personas. ¿Cuántos automóviles se van a usar para esta excursión?

- a. 3 automóviles
- b. 4 automóviles
- c. 5 automóviles
- d. 6 automóviles